




## SABERES Y PENSAMIENTOS CIENTÍFICOS

1º


Miércoles 04 de marzo de 2026

- Copia en tu cuaderno los problemas y resuelve: Anota datos, operaciones y resultado.

3.- Había 7 conejos saltando hacia el jardín, pero 2 se fueron a su casita. ¿Cuántos conejos se fueron al jardín?



4.- Mi mamá hizo 10 waffles para el desayuno y me comí 2, ¿Cuántos waffles quedaron?




- Cuenta los animales y colorea en la gráfica según la cantidad.

**Gráficas**

15				
14				
13				
12				
11				
10				
9				
8				
7				
6				
5				
4				
3				
2				

**Animales del mar**



Vier scY Tor Virritter Yaz Md.



## SABERES Y PENSAMIENTOS CIENTÍFICOS

1º

- Escribe el nombre de cada figura geométrica
- Colorea cada figura geométrica de acuerdo con su color, del payaso y la flor

TRIÁNGULO   CUADRADO   RECTÁNGULO   CÍRCULO

CONTAR LAS FIGURAS DE CADA DIBUJO Y COMPLETAR:

	<table border="1"><tr><td></td><td></td></tr><tr><td></td><td></td></tr><tr><td></td><td></td></tr><tr><td></td><td></td></tr></table>								
	<table border="1"><tr><td></td><td></td></tr><tr><td></td><td></td></tr><tr><td></td><td></td></tr><tr><td></td><td></td></tr></table>								